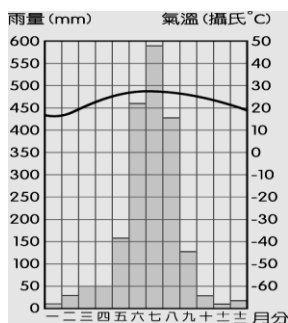


臺北市誠正國民中學107學年度第一學期第二次段考八年級地理科試題

一、單題(每題二分)

1. 芷嘉看到某地區的氣候圖，請根據圖中資料判斷何者最為正確？(A)溫帶季風氣候 (B)乾溼季節分明 (C)四季分明 (D)年溫差約 28 °C



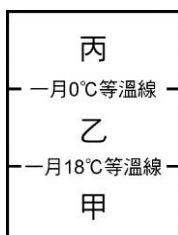
2. 長江與黃河為中國兩條主要河川，其位於秦嶺、淮河的南北兩側。請問：下列有關這兩個河川的敘述錯誤？
 (A) 黃河流域位於秦嶺、淮河以北，年雨量小於 750 毫米
 (B) 長江流域的年雨量多於 750 毫米
 (C) 長江流域位於秦嶺、淮河以南地區，最冷月均溫高於 0 °C
 (D) 黃河流域最冷月均溫低於 0 °C，為熱帶季風氣候區
3. 下列哪一張圖代表正確的夏季氣壓及風向？(H、L 各代表高、低氣壓，→代表風向)



4. 湖泊可依鹽度分為淡水湖與鹹水湖，請問下列有關中國湖泊的敘述，何者有誤？ (A)中國西半部多鹹水湖 (B)洞庭湖是中國第一大淡水湖 (C)淡水湖的功能可供灌溉、防洪 (D)西藏納木錯可生產湖鹽
5. 中國西南地區為少數民族分布複雜的地區，形成文化多元的地區。造成此一現象的主要原因為何？(A)鄰國眾多 (B)地形複雜 (C)氣候溼熱 (D)政府保護
6. 中國一月 0°C 等溫線通過秦嶺和下列哪一條河川？(A)長江 (B)淮河 (C)珠江 (D)黃河
7. 下列哪一個少數民族人數眾多，主要分布於中國廣西一帶？
 (A) (B) (C) (D)



8. 根據 2015 年的資料顯示，中國幼年人口性別比例高達 117。此項資料顯示了下列哪一項事實？ (A)女性幼年人口數量較多 (B)男性幼年人口數量較多 (C)女性平均壽命較長 (D)男性平均壽命較長
9. 下列哪一條河川為中國最長的內流河？ (A)長江 (B)塔里木河 (C)黑龍江 (D)黃河
10. 圖是中國東半部季風氣候分區示意圖，圖中甲、乙、丙依序代表哪些氣候類型？ (A)寒帶、溫帶、熱帶 (B)熱帶、溫帶、寒帶 (C)溫帶、副熱帶、熱帶 (D)熱帶、副熱帶、溫帶

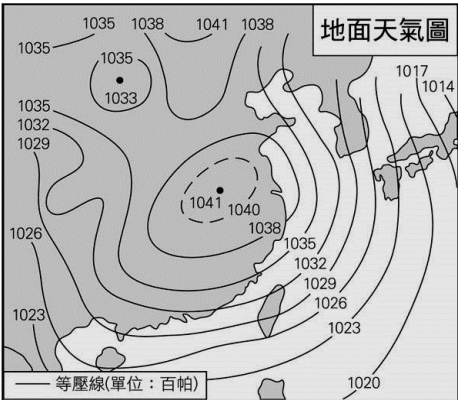


11. 下表為中國的人口比例統計資料，由此資料可推論出下列哪一事實？

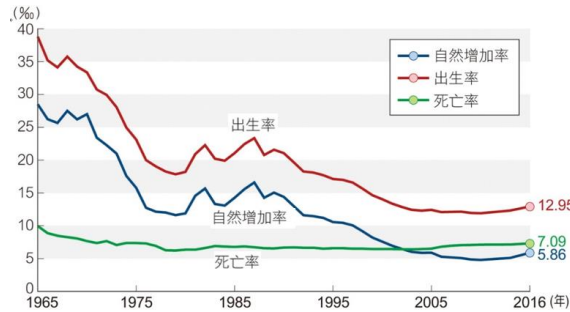
單位：%	1990年	2016年	2040年(預測)
幼年人口	28	17	13
壯年人口	67	73	62
老年人口	5	10	25

- (A)幼年人口比例逐年增加 (B)壯年人口負擔逐年減輕 (C)中國已進入高齡化社會 (D)未來勞動人口持續增加

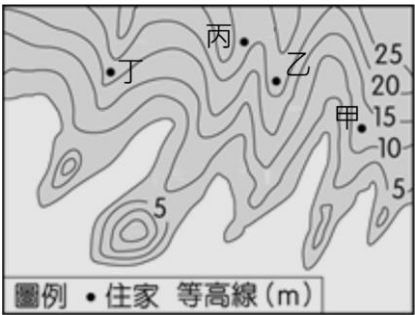
12. 自1980年代以來中國自然增加率雖已大幅下降，但每年人口成長的數量依舊十分眾多，最主要的原因為下列何者？
 (A) 人口總數多 (B) 出生率上升 (C) 死亡率偏低 (D) 移入人口多
13. 下圖是亞洲東部的地面天氣圖，根據圖上氣壓資料判斷此時最可能是哪一個季節？(A)春 (B)夏 (C)秋 (D)冬



14. 位於西藏南部的雅魯藏布江因為水資源充足的影響，因此成為西藏的農業區。該河川最後注入哪一個海洋？
 (A)印度洋 (B)太平洋 (C)北極海 (D)大西洋
15. 中國的人口分布極度不平均，大致以下列哪條連線分為稀疏區和稠密區？(A)大興安嶺—秦嶺 (B)秦嶺—淮河 (C)黑河—騰衝 (D)太行山—巫山
16. 下圖是中國的人口資料，針對圖中有限的資訊，四位同學做了不同的說明，何者的說法最正確？ (A)新宜：死亡率的高低變化很大，社會不安定 (B)易捷：曲線呈現下降，表示總人口逐年減少 (C)瑞兒：每年出生的嬰兒數遠低於死亡人數 (D)小菁：自然增加率的高低，主要受出生率影響



17. 下圖為某地區的住家分布。某日，因山區大量降雨導致土石流，當地政府強制撤離居住在河谷附近的居民，則圖中哪一戶居民離河谷最近會被優先強制撤離？(A)甲 (B)乙 (C)丙 (D)丁



18. 中國幅員廣大地形複雜多樣，這些自然環境的差異影響了人類活動。請問：若以其地理位置判斷，下列哪一城市日出的時間最早？ (A)哈爾濱 (B)拉薩 (C)哈密 (D)海口
19. 定佑寒假與家人前往中國旅遊，放眼望去一片冰天雪地，導遊說：「吉林樹掛（霧凇）為當地極為著名的觀光景點；此外，附近的哈爾濱每年以冰雕展吸引大量的遊客。這裡冬季雖然寒冷，但夏季時氣溫可達 20℃ 以上哦。」請問：定佑前往旅遊景點最可能位於何處？ (A)青藏高原 (B)四川盆地 (C)東北平原 (D)山東丘陵
20. 彥奇將中國人口分布點在一張空白的中國地圖上，他得到了一些結論但下列何者錯誤？ (A)東半部的人口主要集中於綠洲、河谷 (B)西半部因為雨量少，所以環境負載力低 (C)東半部雨量充沛、農業發達，故人口稠密 (D)西半部地形較東部崎嶇
21. 根據記載福建泉州港曾為世界大港，當時的商人常利用盛行風乘帆船南下，貿易的範圍包括東南亞、印度。圖中哪一期間的盛行風最有利於南下貿易？ (A)甲 (B)乙 (C)丙 (D)丁

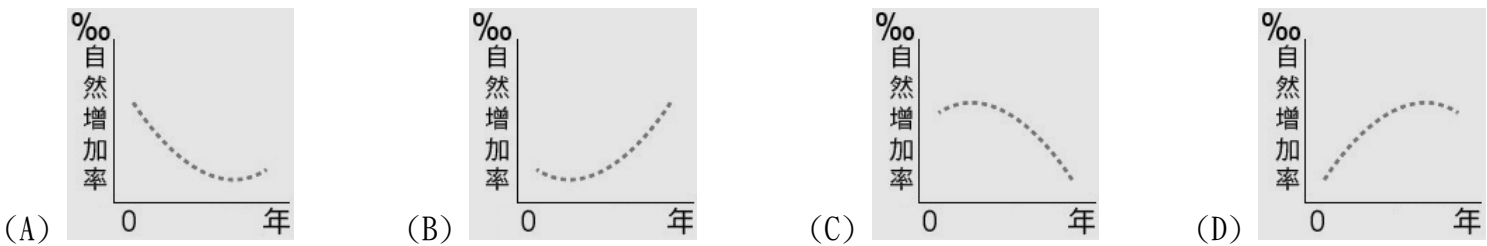
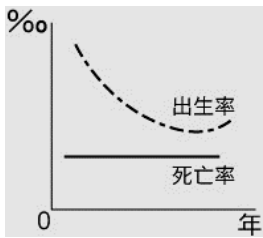


22. 下圖為西藏地區傳統服飾，午間人們常將外袍的袖子繫在腰間袒出右臂或雙臂。請這種穿著方式，最能反映出當地氣候具有下列哪個氣候特色？(A)雨量稀少 (B)風力強勁 (C)日溫差大 (D)空氣稀薄



23. 甲、太平洋板塊；乙、菲律賓海板塊；丙、歐亞板塊；丁、印澳板塊。中國東側的東北-西南走向山脈阻擋了季風水氣進入內陸，這些山脈是由哪兩個板塊擠壓所造成的？(A)甲乙 (B)丙丁 (C)甲丙 (D)乙丁

24. 下圖是某國的出生率與死亡率曲線變化圖，由圖推判該國的自然增加率曲線最接近下列哪張圖？

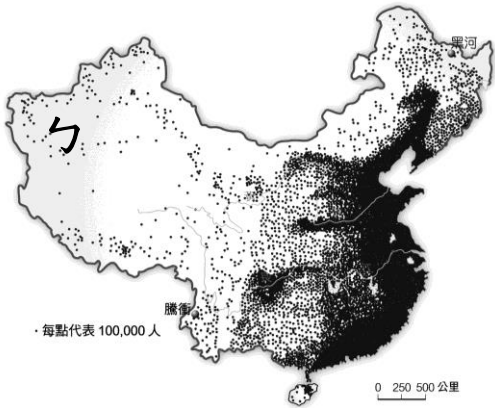


25. 下圖是南部地區的市街建築特色，常將一樓接鄰馬路的部分當作通道，稱為「騎樓」。這種建築特色與下列哪一項最有關係？(A)強風多 (B)雨日長 (C)人口多 (D)地震頻繁



二、題組(每題二分)

★ 下圖為中國大陸人口分布圖，請依圖中資料回答：



26. 從圖中可以看出中國人口，具有下列哪一項地理特色？(A)人口結構失衡 (B)人口成長快速 (C)人口素質較低 (D)人口分布不均

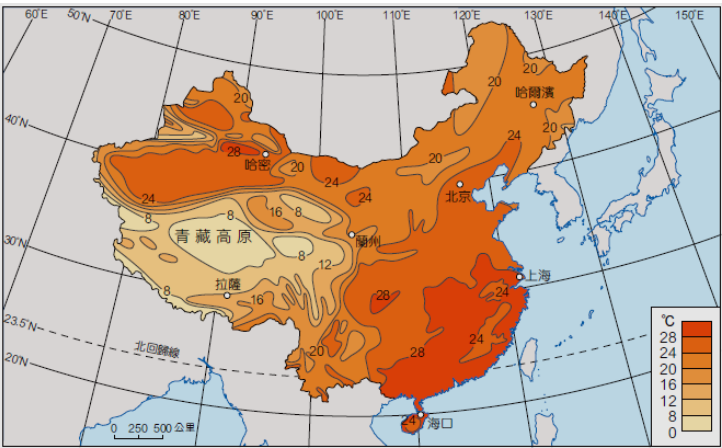
27. 造成中國人口此一地理特色的主要因素為何？(A)交通、土壤 (B)資源、政策 (C)文化、植被 (D)地形、氣候

28. 中國人口稠密區大致和哪一氣候區相符？(A)乾燥氣候區 (B)草原氣候區 (C)季風氣候區 (D)高地氣候區

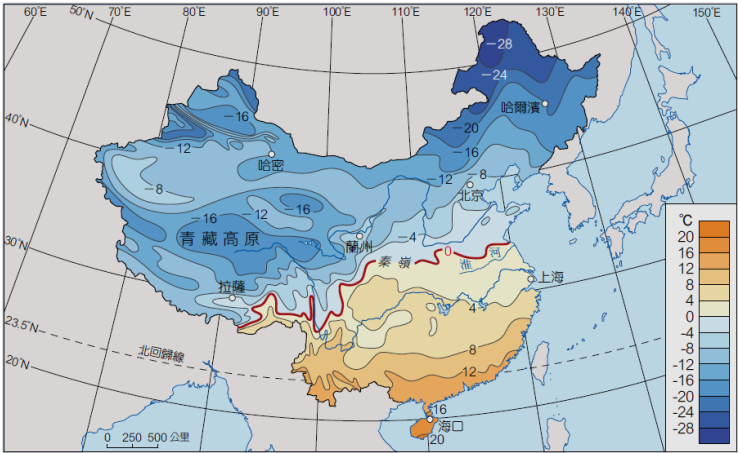
29. 圖中「フ」區人口集中分布於盆地的山麓綠洲地帶而呈現環狀分布，此一現象主要是受到下列何種因素影響？(A)水源 (B)地形 (C)經濟 (D)交通

★ 下列是與中國相關四種示意圖，請找出對應的畫分依據：

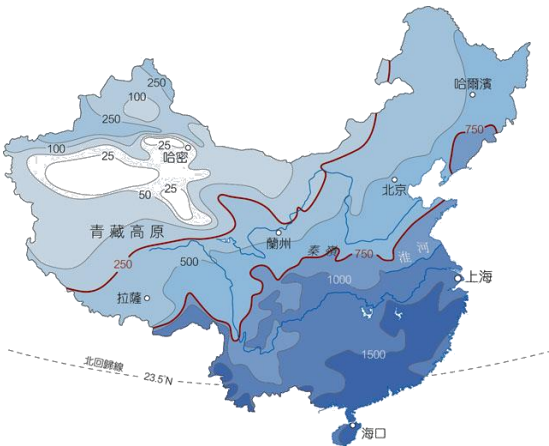
A.



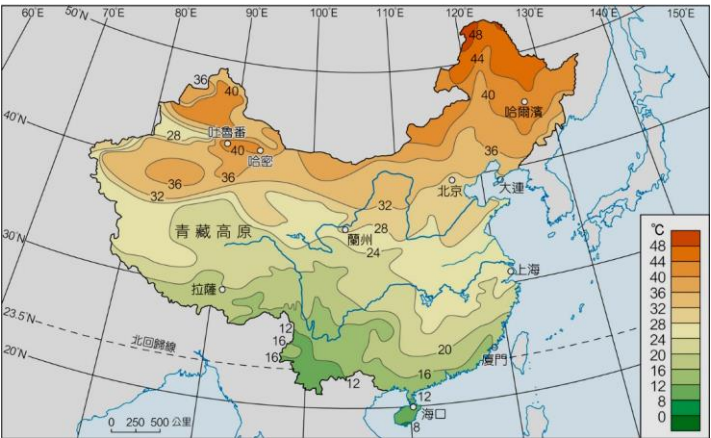
B.



C.



D.



30. 年雨量

31. 最暖月月均溫

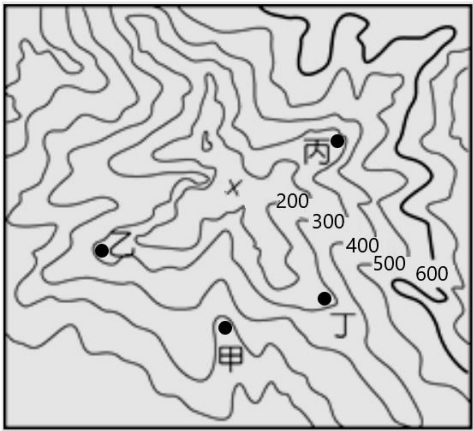
32. 年溫差

★ 下圖為等高線地形圖，請根據圖回答下列問題：

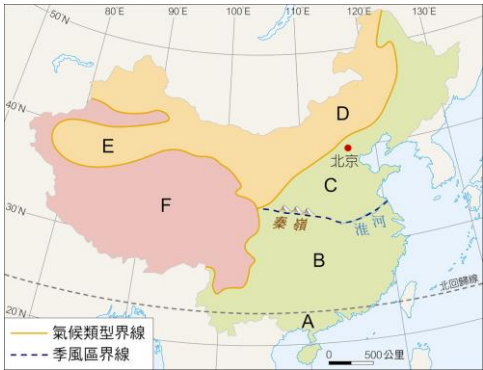
33. 圖中甲乙丙丁四個位置，哪一個不位於河流旁？ (A)甲 (B)乙 (C)丙 (D)丁

34. 圖上最低點高度可能為多少公尺？ (A)60m (B)160m (C)260m (D)360m

35. 此等高線地形圖代表何種地形？ (A)盆地 (B)平原 (C)臺地 (D)丘陵



★ 下圖為中國氣候類型分布圖，請根據圖回答下列問題：



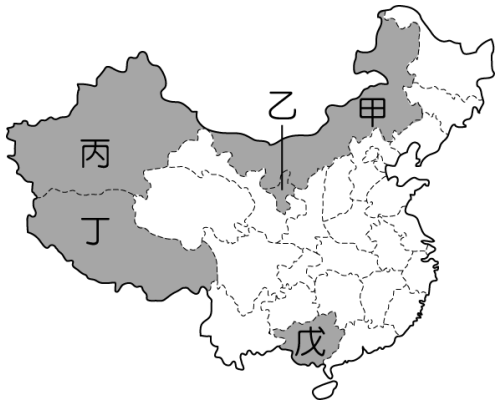
36. 請問圖中的動物是圖中哪一個氣候地區的代表牲畜？(A)C (B)D (C)E (D)F



37. 下圖中的牲畜能耐旱與寒，行動不因體形大而影響矯健，可在雪坡上步行、激流中游泳、峭岩中行走，是重要的供役使家畜，其最可能在下列何處看到？(A)C (B)D (C)E (D)F



★ 下圖為中國行政區畫分圖，請依各題填入代號及名稱：



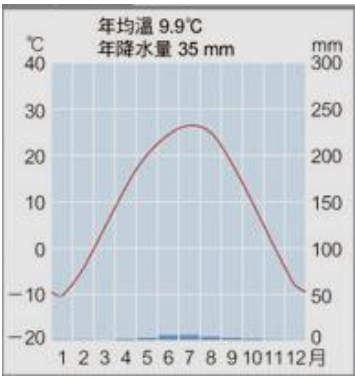
38. 中國由於少數民族的特性不同設立不同的行政區制度，目前中國少數民族因居住地區而設立的行政區為下列何者？(A)特別行政區 (B)省 (C)直轄市 (D)自治區
39. 中國少數民族各具傳統風俗與特色，小華前往圖中的戊地，應可見到下列哪種文化景觀？(A)善於農耕的壯族 (B)能歌善舞的維吾爾族 (C)逐水草而居的蒙古族 (D)宗教信仰虔誠的藏族。
40. 維吾爾族的傳統生活方式，是利用高山融化的雪水發展綠洲農業，日常生活遵守伊斯蘭教教義。圖中哪個地區是維吾爾族主要分布區？(A)甲 (B)乙 (C)丙 (D)丁
41. 西藏昔日曾實施教政合一，族人以藏傳佛教為主要信仰。精神領袖達賴喇嘛出走海外，爭取居住地區的獨立，積極爭取國際間的支持。藏族主要的活動地區位於圖中何處？(A)甲 (B)乙 (C)丙 (D)丁
42. 少數民族因生活環境的不同，而有不同的生活方式。下圖的這種居住型態分布在哪個地區？(A)乙 (B)丙 (C)丁 (D)戊



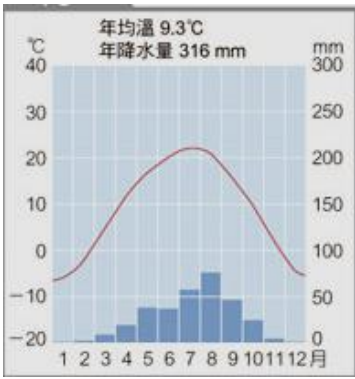
三、非選擇題(每題二分)

★ 下為中國四個都市的氣候圖，請依各題填入氣候類型或代號：（請寫出完整名稱，否則不予計分，例：熱帶季風）

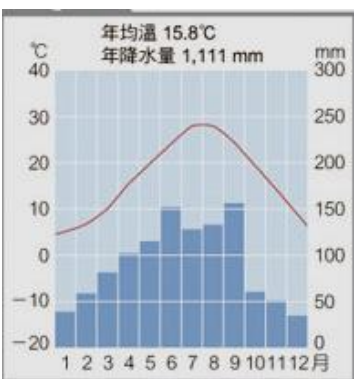
甲、



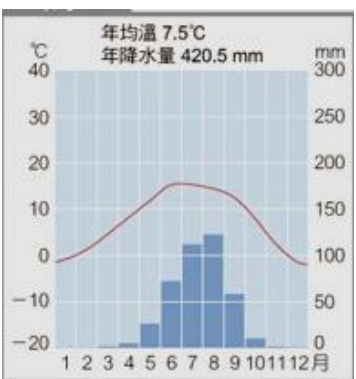
乙、



丙、



丁、



- 43. 甲屬於何種氣候？
- 44. 乙屬於何種氣候？
- 45. 丙屬於何種氣候？
- 46. 丁屬於何種氣候？
- 47. 請問哪一個都市距海最近？(代號)
- 48. 哪一個地區最適合從事稻米耕作？(代號)
- 49. 緯度最高的地區？(代號)
- 50. 年溫差最小的是哪個地區？(代號)